

平成31年度
入学試験問題

第3回
社 会

- 1 問題用紙は指示があるまでは開いてはいけません。
- 2 開始のチャイムが鳴ったら、最初に問題用紙と解答用紙に受験番号と氏名を記入して下さい。
- 3 答えはすべて解答用紙に記入して下さい。
- 4 解答は特に指定のないかぎり、漢字・ひらがなのどちらでもかまいません。
- 5 問題は1ページから9ページまであります。

受 験 番 号		氏 名	
------------------	--	------------	--

森村学園中等部

1

すもう
相撲の歴史に関する以下の①から⑤の文章を読み、問いに答えなさい。

- ①地方では蝦夷を制圧するための戦争が起こる一方、中央では大きな戦乱が無くなったこの時代、朝廷では様々な行事が行われた。その一つが「相撲節」という行事である。これは、毎年初秋に、各地から力士（相撲取り）を天皇の住まいに集め、天皇や貴族が相撲を観覧するというものである。この儀式を通じて、相撲のルール等が少しずつ整えられていったが、この時代にはまだ土俵はなく、相手を倒せば勝ちとなった。なお、後に、内乱などが多発するようになると、相撲節は行われなくなっていった。
- ②将軍と大名が統治する幕藩体制が確立したこの時代、大名は相撲見学を楽しむために、力士を家臣として登用することがあった。しかし、この時代の中頃、商品経済が進展すると、年貢米に頼っていた幕府や藩の財政が悪化したため、力士を家臣として雇い続けることが厳しくなっていった。そこで、力士は、収入を確保するために、都市部で相撲興行を行うようになった。その結果、相撲人気が高まり、浮世絵や絵入りの本にも力士が多く登場するようになった。この中には、女相撲の様子を描いた絵入りの本も残っている。なお、この頃に、相撲興行において観客から見やすくするための舞台として「土俵」ができたと言われている。
- ※興行…入場料をとって、芸能・スポーツなどの催しを行うこと
- ③ヤマト政権の勢力が拡大・強化されたこの時代、ワカタケル大王（雄略天皇）の力が関東地方にまで及んでいたことが発掘資料からわかっている。日本の歴史書に「相撲」の文字が初めて登場するのは、その雄略天皇の記事の中である。これは、天皇が女性の役人に「裸にふんどし」姿で相撲を取らせたという「女相撲」の話である。なお、「裸にふんどし」姿で行う格闘は、同じ頃の朝鮮半島の高句麗の遺跡壁画にも描かれている。
- ④この頃、寺社などの建立・修復費用を集めるため、猿楽などの芸能を演じて観客を集め、見物料を徴収することが政治的・文化的中心であった京都を中心に盛んに行われるようになった。猿楽師の□が能を大成したのもこの頃のことである。相撲も寺社の造営費用を集めるための興行としてさかんに行われたが、これは、相撲に入場料を支払う階層が、天皇・貴族・武将や寺社などの支配者層から、民衆へと広く拡大したことを示している。なお、この相撲には、女性の僧も力士として参加していたという史料が残っている。
- ⑤この時代の始め、欧米文化の急速な流入にともない、文明開化の妨げになるとされた「古い文化」が批判された。この中で、まげを結び、裸体姿で闘う力士が「野蛮である」と批判されるなど、相撲への風当たりが強まった。特に、女性が土俵上で取っ組み合う様子は、文明国家のものではないと考える者もいた。その後、政府による極端な欧化

政策への批判が高まり、日清・日露戦争後に日本文化を見直そうとする動きが強まる中で、相撲人気も回復していった。この頃、東京の両国に常設の相撲場が建設され、「国技館」と命名された。もともと「常設館」という名前を予定していたようだが、ある作家が「相撲は日本の国技なり」と書いたことをヒントに「国技館」となった。

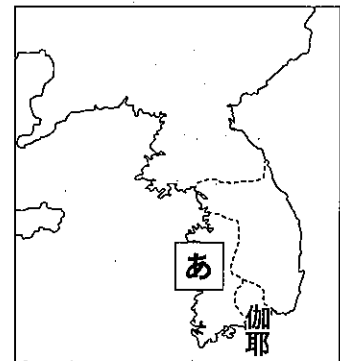
問1 ①から⑤はそれぞれ何時代の出来事ですか。次の中から選び、記号で答えなさい。

- ア. 旧石器時代 イ. 縄文時代 ウ. 弥生時代
 エ. 古墳・飛鳥時代 オ. 奈良時代 カ. 平安時代（院政期を除く）
 キ. 院政期・鎌倉時代 ク. 室町時代（南北朝時代を含む）・戦国時代
 ケ. 安土桃山時代 コ. 江戸時代 サ. 明治時代 シ. 大正時代
 ス. 昭和前期（第二次世界大戦敗戦まで） セ. 昭和後期（第二次世界大戦敗戦後）

問2 ①の下線部について、蝦夷制圧のために、坂上田村麻呂を征夷大將軍に任命した天皇は誰ですか。答えなさい。

問3 ②の下線部について、「絵入りの本」の有名作家の一人である恋川春町こいかわはるまちは、作品の中で松平定信の政治を皮肉ったとして、幕府から圧力を受けました。松平定信の改革として、誤っているものはどれですか。次の中から1つ選び、記号で答えなさい。

- ア. 昌平坂学問所において、朱子学以外の学問を禁止した。
 イ. 都市に出てきていた農民を農村に帰そうとした。
 ウ. キリスト教に関係ない洋書の輸入を許可した。
 エ. 飢饉ききんに備えて、大名に穀物こくもつを備蓄びちくさせた。



問4 ③の下線部について、高句麗とは、この時代に朝鮮半島北部を支配していた国のことです。では、右の地図の「あ」にあたる国で、仏教を日本に伝えるなどヤマト政権との関係が深い国はどこですか。答えなさい。

問5 ④の にあてはまる名前は何ですか。答えなさい（1人で構いません）。

問6 ⑤の下線部について、日露戦争の講和条約で、ロシアが日本に認めた内容として、誤っているものはどれですか。次の中から1つ選び、記号で答えなさい。

- ア. 中国のリャオトン半島にある旅順・大連を日本が借りること
 イ. 中国東部の鉄道（のちの南満州鉄道）の権益を日本が得ること
 ウ. 賠償金2億テール両を日本に支払うこと
 エ. 樺太の南半分を日本にゆずること

問7 以下のような意見は、歴史的に見てどのような点が誤っていると言えますか。①～⑤の文をふまえて説明しなさい。

相撲は1000年以上の歴史を持つ国技であり、積み重ねられた伝統がある。今の時代、男女平等という価値観は尊重しなければならないのは当然であるが、一方で「土俵に女性を上げてはならない」という日本古来の伝統も守り続けなければならない。

2

以下の文章を読み、問いに答えなさい。

昨年の7月14日、報道は西日本豪雨災害一色に染まりました。その結果、人々の目には全く映らなくなってしまいました。この日は一昨年の北九州豪雨災害からの着実な復興を伝える明るい知らせにわくはずの日でした。

福岡県を出て東へと横断して走る^{きゅうだい}①久大本線復旧がその知らせです。鉄橋の橋脚が流され、使えなくなっていた日田^{ひだ}大橋の修理が終わり、全線開通となりました。②第一次、第二次産業と合わせ、③観光などの第三次産業に負うところが少なくないこの地域にとって、観光客を運ぶ鉄道の復旧は長らく待ち続けられていました。

④自然災害との「共存」はこれからも課題であり続けますが、現地ではこれで復興に弾みがつくと期待されています。

問1 下線部①について、久大本線とは、この鉄道が結ぶ両都市の頭文字からとられています。「久」は福岡の久留米です。「大」が表す、この鉄道の終点があり県庁所在地ともなっている都市名は何ですか。答えなさい。

問2 下線部②について、この地域の第一次、二次産業の様子を説明した文として誤りのあるものはどれですか。1つ選び、記号で答えなさい。

- ア. 豊かな地味もたらす牧草を利用した畜産業が盛んで、松坂牛などと並ぶブランド牛肉が有名である。
- イ. 稲作以外の野菜・果樹栽培のみならず林業も行われているが、海岸線がないので漁業は行われていない。
- ウ. シリコンアイランドの一角として、県内の空港を利用し、半導体の生産・出荷が盛んに行われている。
- エ. アジアに近い地の利を活かすため、自動車工場が進出したことで、すそ野の広い関連産業の誘致^{ゆうち}が進んでいる。

問3 下線部③について、この地域の観光は、右に記す地図記号で表示される場所が中心となっています。その場所はどこですか。次の中から1つ選び、記号で答えなさい。



ア. 箱根 イ. 草津 ウ. 登別 エ. 別府

問4 下線部④について、県下の周辺一帯はこの地域同様「㊦」の地図記号で示される場所が多くあります。これは地熱発電というエネルギー産業の育成に有望である反面、ある自然災害と隣り合わせであるという地域の^{とくちょう}特徴を示します。この自然災害とは何ですか。1つ答えなさい。

問5 久大本線の沿線で、この地域の観光の中心である湯布院^{ゆふいん}は、一時期観光客の減少に苦しんでいました。日本の人口がそれまでの「増加」から「頭打ち」となることに加え、景気の低迷が原因でした。しかし、近年景気回復に加え「九州にある」という位置条件を利用した取り組みが実を結び、湯布院を訪れる観光客は増加しています。観光客が増加した景気回復以外の理由とは何ですか。説明しなさい。

3

以下の文章を読み、問いに答えなさい。

日本には、日本国憲法第25条に示されている「①健康で文化的な最低限度の生活を営む権利」を保障する制度の1つとして、②生活保護というものがある。これは、生活に困窮する人々に対し、その困窮の程度に応じて必要な保護を行うとともに、自立を助けることを目的としている。政府は、この生活保護にあてる額を3年間かけて段階的に引き下げ、国費分で年160億円を削減するための政策を進めている。

日本では、「所得が保護基準に満たない世帯」は、日本がバブル経済の好景気に沸いていたころは減少傾向にあったが、バブル崩壊後、右肩上がりに増加していった。そして、2008年のリーマン＝ショックにより引き起こされた世界規模の大不況後、増加率はそれまで以上に大きくなった。

また、厚生労働省の調査によると、日本における「子どもの貧困率」は2012年に16.3%を記録し、実に6人に1人が貧困状態となった。日本の「子どもの貧困率」はここ数十年間で徐々に上昇してきており、子どもの人生が、生まれた家庭の経済状況次第で大きく異なってしまう現状は、深刻な社会問題となっている。

一方、「所得が保護基準に満たない世帯」のうち保護を利用している世帯は22.9%にとどまっているという推計が、昨年5月に厚生労働省より出された。これは、「本来保護されるべき家庭」のうち、約77%が保護を受けずにいるということである。この問題の背景には、生活保護を利用するための基準の厳しさや、生活保護の申請を受け付ける事務所の対応の問題などの他に、「生活保護利用者に対する世論の厳しさ」があることも指摘されている。③「貧しい生活になってしまっているのは、本人の努力が足りないからである」という意見があるためである。

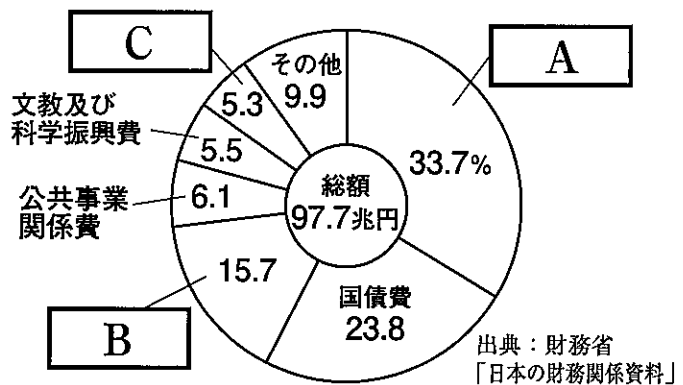
生活保護を利用することは、憲法上の権利である。誰しものが、困窮したときに、抵抗感なく、スムーズに利用できるような環境を整えることが、急務と言える。

問1 下線部①について、日本国憲法第25条に規定されている「健康で文化的な最低限度の生活を営む権利」は、社会権のうち、何と呼ばれている権利ですか。答えなさい。

問2 下線部②について、生活保護に使われる国の予算は、社会保障関係費から出されています。以下の問いに答えなさい。

(1) 右のグラフのAからCには、「社会保障関係費」、「防衛関係費」、「地方交付税交付金」のいずれかが入ります。その組み合わせとして正しいものはどれですか。1つ選び、記号で答えなさい。

国の歳出の内訳 (2018年度)



- | | | |
|--------------|------------|------------|
| ア. A 社会保障関係費 | B 防衛関係費 | C 地方交付税交付金 |
| イ. A 社会保障関係費 | B 地方交付税交付金 | C 防衛関係費 |
| ウ. A 防衛関係費 | B 社会保障関係費 | C 地方交付税交付金 |
| エ. A 防衛関係費 | B 地方交付税交付金 | C 社会保障関係費 |

(2) 社会保障関係費についての正しい説明はどれですか。1つ選び、記号で答えなさい。

- ア. 社会保障関係費が歳出に占める割合は、戦前のほうが大きかった。
- イ. 近年、歳出における社会保障関係費の額は、増加傾向にある。
- ウ. 社会保障関係費のなかでも、年金や医療に使われる額は、減少傾向にある。
- エ. 日本は、歳出に占める社会保障関係費の割合が先進国の中でも群を抜いて大きく、世界随一の福祉国家として評価されている。

問3 下線部③について、この意見については、「本人の努力の問題だけを責めるのはおかしい」という批判も多く出ています。貧しい生活になってしまっているのは、本人の努力の問題だけではないと言えるのはどうしてですか。具体例を挙げつつ、答えなさい。

4

以下の言葉の中で、ある見方でみると一つだけ性格が異なるものがあります。それはどれですか。記号で答えなさい。また、それ以外の言葉に共通する性格は何ですか。説明しなさい。

例題 [ア. 縄文 イ. 江戸 ウ. 鎌倉 エ. 横浜]

ア	他はすべて都市の名前
---	------------

問1 ア. 函館 イ. 長崎 ウ. 新潟 エ. 仙台

問2 ア. 保元の乱 イ. 平治の乱 ウ. 平将門の乱 エ. 承久の乱

5

以下の問いに答えなさい。

問1 昨年末、日本政府が外国人労働者の受け入れを増やすため、改正した法律の名称は何ですか。答えなさい (略称で構いません)。

問2 昨年秋、トランプ大統領が表明した、ロシアとの核軍縮合意の一方的な破棄は人々を驚かせました。米ソ冷戦末期、冷戦終結への一歩となったこの条約を何と言いますか。その略称を解答らんにあうようにアルファベットで答えなさい。

6

以下の会話を読んで、問いに答えなさい。なお、文中の森村くんの会話を「森」、お父さんの会話を「父」、お母さんの会話を「母」と表記します。

- 森 お父さんお母さん、2020年東京オリンピックって、開催地を返上して、他の国で開催するように検討してもらった方がいいのかな？
- 父 いきなりどうしたんだい。
- 森 うん、学校で返上した方が良いて言う人がいて、みんなで話し合いになったんだけど、開催地の返上なんてできるの？
- 父 そうだね……過去にないわけではないね。1940年の東京だよ。
- 森 えっ、東京？どうして返上したの。
- 父 スタジアム問題だよ。
- 森 今回もスタジアムの設計や費用の問題が起きていたよね。
- 父 1940年のオリンピック開催地が東京に決まったのが1936年。その翌年から日本は（あ）事件をきっかけとして日中戦争を始めてしまう。その結果、燃料や資材が足りなくなってしまった。国際的には戦争をしているために批判され、国内からはオリンピックにお金を出すことに批判が出て、日本は開催地を返上したんだ。
- 森 でも、そんな戦争の時期にどうして日本は開催地に立候補したの？
- 母 それは「復興」ね。
- 森 復興？何からの？
- 母 当時の東京市長（現在の東京都知事）は1923年に起きた関東大震災からの復興をアピールしようとしたのね。政府としても1940年は日本の「紀元2600年」という盛大な祭典のために、日本の国力をアピールしたかったのね。
- 森 スタジアム問題、復興、日本の国力をアピール……なんか色々で現在の状況と似ている気がする。
- 母 確かにそういうところはあるかもしれないわね。オリンピックは世界の注目を受けるから、その場を利用しようとしていると言えるかもしれない。オリンピックは誰のために、何のためにあるのかを考えなくてはいけないと思う。
- 森 1940年のオリンピックは「（い）のため」が重視されていたってことだよな。でも、オリンピックの開催地を返上したってことは、当時の日本の最重要課題が「オリンピック開催」から、①になってしまったんだね。
- 父 オリンピックは常に政治的に利用されてきたといえるだろうね。1940年の東京で行われるはずだった大会の前には、ヒトラー主導のベルリン大会が開かれている。この時にはさまざまな形で、ナチスのアピールに使われた。戦後には東西両陣営の対立である「（い）」によって、ソビエト側とアメリカ側がメダル数を競うようになっていった。さらに、1980年のモスクワ・84年のロサンゼルス大会では、（い）の激化で、オリンピックのボイコット合戦が起こってしまった。
- 母 ところで返上した方が良いていう人はどうしてそう言うの。
- 森 去年の夏はものすごく暑かったでしょ。だから、真夏の東京でオリンピックをやったら大変なことになるっていうんだ。
- 父 確かに地球の気候は温暖化の影響で徐々に暑くなっているし、特にヒートアイランド

現象によって、東京の気温はとても上がっているよね。ここ数年は、35度を超えても驚かないからね。35度を超えた日の日中に屋外競技は難しいよね。

森 でも、前の東京オリンピックは秋の開催だったんでしょ。秋の開催にすればいいのに。
父 それはテレビの放映権の問題だよ。オリンピックを開催する時の収入で最も大きな割合は何だと思う？

森 それは見に来る人のチケット代でしょ。

父 入場料は、この前のリオ五輪ではわずかに7%にしかならなかった。これに対してテレビの放映権料は53%にもなった。放映権料というのはオリンピックを放映する権利をテレビ局が買うお金だよ。この金額が莫大ばくだいになっている。今やオリンピック収入の50%を超えている。この放映権料を最も多く支払っているのが、アメリカのテレビ局ってわけだ。だから、アメリカ人に都合の良いような日程になる。

森 アメリカ人に都合が良い？

父 アメリカでは、バスケットボール・フットボール・アイスホッケー・野球の4大プロスポーツがある。この4大プロスポーツの大きなイベントが7・8月にはないんだ。

母 それにアメリカやヨーロッパでは、9月に学校が始まることが多いし、バカンスとって長い夏休みもある。夏休みなのは日本も同じだけど。

森 確かに、視聴率が大きく変わるからね。テレビ側にとっては大切だよ。

父 そうだね。最近のオリンピックは「(Ⅱ)のため」という視点が強くなっている。放映権料をふくめると、オリンピックの収入の90%は(Ⅱ)が出していることになる。そうすると当然(Ⅱ)の利益が優先されることになる。

森 でも、オリンピックを見る側からすると、7・8月はいいと思うんだけど……。

父 確かにそうだ。7・8月にすることは日本の経済にも大きなメリットになると思う。

母 もちろんオリンピックで経済が良くなるのは否定しないけど、それがオリンピック開催の最大の「目的」になってはいけないと思うわ。あの暑さの中で競技をやるということは、(Ⅲ)の視点はまったく考えられていないってことだと思うわ。

森 じゃあ、オリンピックの目的って何なの？

母 オリンピックには「オリンピック憲章」というものがあって、そこには「オリンピック精神の目的」が書いてあるのよ。この目的はオリンピックの最初の頃から変わらないの。ちなみに、最初のオリンピック憲章は1914年に制定されているわ。

父 1914年か……第一次世界大戦が始まった年だね。

母 そうなの。第一次世界大戦前から、世界には戦争が多発していた。だからこのときには「平和な社会をつくるためにスポーツを役立てる」といったことが重視されていたのよ。

森 えーそうなの。だとしたら、自国のアピールもメダル争いもオリンピックの理念には当てはまらないよね。

父 確かにそうだね。父さんもそう思う。オリンピック憲章は時代とともに変わっている。スポーツの役割も変わっている。だから、現代に合わせたオリンピックの役割を考えてもいいと思う。どう思う？

森 うーん、僕の考えるオリンピック精神は「オリンピックの目的は ③」

母 なるほどね、お母さんもその意見は賛成だな。そんな目的を持って、東京オリンピックを実現できたらいいわよね。

問1 会話文中の (あ)・(い) にあてはまる言葉は何ですか。答えなさい。

問2 会話文中の (I)・(II)・(III) にあてはまる言葉は何ですか。

次の中からそれぞれ1つずつ選び、記号で答えなさい。

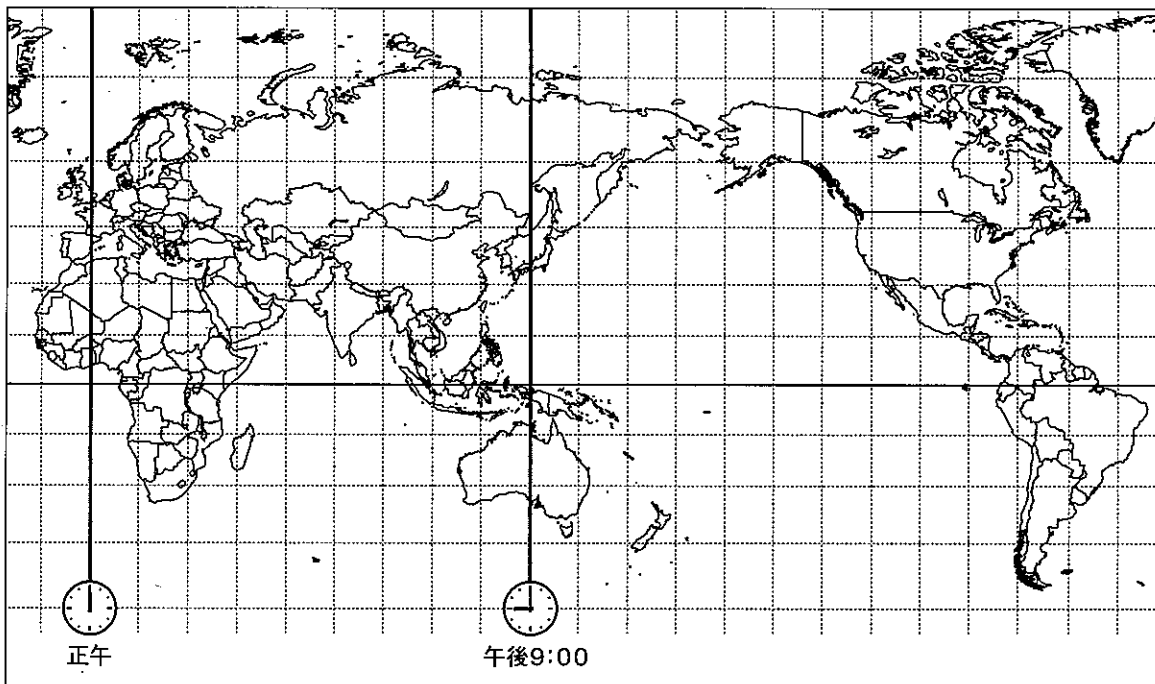
ア. 世界 イ. 国家 ウ. 選手 エ. 企業 オ. 平和

問3 会話文中の にあてはまる言葉を考えて入れなさい。

問4 下線部②について、テレビの都合は競技の時間にも影響しています。2018年に韓国のピョンチャンで行われた冬季オリンピックでは、スキージャンプ男子の競技開始時刻が夜9時半(現地時刻)を過ぎていたため、競技の終了は夜中の12時頃(現地時刻)になってしまいました。では、なぜこのような開始時刻に設定されたのでしょうか。次の【資料】を参考にしながら、世界地図を利用して説明しなさい。

【資料】

- ・スキージャンプはヨーロッパでとても人気のある競技である。
- ・2度の決勝戦が行われた日程は、いずれも土曜日であった。



問5 会話文中の に、あなたが考える、「平和」以外の「現代に必要なオリンピックの目的」を書きなさい。また、なぜ現代の世界において、その目的が重要なのかを説明しなさい。