

平成 30 年度
入 学 試 験 問 題

第 2 回
社 会

- 1 問題用紙は指示があるまでは開いてはいけません。
- 2 開始のチャイムが鳴ったら、最初に問題用紙と解答用紙に受験番号と氏名を記入して下さい。
- 3 答えはすべて解答用紙に記入して下さい。
- 4 解答は特に指定のないかぎり、漢字・ひらがなのどちらでもかまいません。
- 5 問題は 1 ページから 8 ページまであります。

| | | | |
|------------------|--|------------|--|
| 受 験 番 号 | | 氏 名 | |
|------------------|--|------------|--|

森村学園中等部

1

以下の①から⑤は外国人が日本人について書いた文とその解説文です（問題作成上、わかりやすく改めています）。文を読み、問いに答えなさい。

①

「隋の皇帝が倭の使者に風習を聞いた。すると倭の使者は『王は天を兄とし、日（太陽）を弟とする。（倭王は）天が明けないうちに政治を行い、日が昇^{のぼ}ってくると弟にゆだねる』と答えた。このため皇帝は『そういった意味のないことはやめ、政治の仕方を改めた方がいい』と言った。」

この文は『隋書』倭国伝に書かれたもので、初めての遣隋使が隋の皇帝と面会したときの記録だと言われている。この後、実際に日本の政権は、中国のさまざまな新しい政治のやり方や文化を取り入れていった。しかし、この第1回遣隋使のことは『()』には記載されていない。これは、日本の政治が日本独特なもので、中国の皇帝に指導されてしまったことを恥^{はじ}だと考えたためだと言われている。

②

「牛肉を食べてビールを飲めば一人前になれると思っているバカな鳥」

これはイギリスのジャーナリストが描いた風刺画に寄せられた文である。描かれた鳥とはモノマネが得意なオウムである。この時代には、日本が積極的に西洋の文化を受け入れていき、鉄道・太陽暦^{れき}・ランプ・ガス灯・牛なべなどが取り入れられた。また、西洋の新しい思想^{しやうかい}が紹介されていた。この文は、こうした状態が単なる西洋のモノマネに終わってしまう可能性があることを痛烈^{れつ}に批判したのである。

③

「日本の農家は、秋に水田を耕して大麦をまき、翌年の初夏に大麦を刈^かって、田植えをする。さらに秋の初めに、イネを刈^かってソバをまき、冬にソバを刈^かって、また大麦をまく。一つの水田に1年で三度作物を収穫^{かく}している。」

この文は日本を訪れた朝鮮人^{おとず}の記した日本の記録の一部である。この時代に入ると、二毛作が関東まで広がり、一部に三毛作が行われていたことがわかる。こうした農業の発展が商工業の発展を生み出したことで、定期市が広がり、明銭が広まり、土倉や酒屋なども広まっていった。

④

「国の神聖なる法を破った者は、罪の大小にかかわらず、大部分を死刑^{けい}に処す」「殺人^{おか}を犯した者は死刑に処せられる。そしてもしどこかの町や路上でそのようなことがあったとすれば、犯人が処せられるのみならず、時には肉親、親類、隣人までもが罰^{ばつ}せられる」

この文は長崎に来日した外国人医師が、幕府の置かれた都市に入った際のことを書いた書物の一部である。この時代の日本の治安の良さについて書く外国人は多いが、その背景には厳しい刑罰があったことがわかる。この時代の中頃^{ころ}には、厳罰^{こく}や残酷な刑を制限し、裁判の公平をはかった公事方御定書が定められている。

⑤ 「島国に閉じこもってきた長い歴史、まれにみるほどの社会の等質性、さらに国内の仲間内と外部とを区別して考える日本人の心情が……日本人は特別な存在なのだという強い思い込みを生んだ。……世界がかかえるもろもろの問題解決に参画し、役立っていくためには……心底から他国民との共同体意識を持つことが日本人に求められているのであろう。」

この文は日本で生まれ育ったアメリカ人であり、アメリカの日本大使として活躍したライシャワーという人物の文章である。この人物は、アメリカとソヴィエトの冷たい戦争の時期に、アメリカと日本の同盟関係を良好にするために大使に選ばれた。ライシャワーは大使の時期に、()の人々の怒りに対応する必要から、()を返還すべきだとアメリカ政府に提唱したと言われる。

問1 ①から⑤はそれぞれ何時代の出来事ですか。次の中から選び、記号で答えなさい。

- ア. 旧石器時代 イ. 縄文時代 ウ. 弥生時代
 エ. 古墳・飛鳥時代 オ. 奈良時代 カ. 平安時代（院政期を除く）
 キ. 院政期・鎌倉時代 ク. 室町時代（南北朝時代を含む）・戦国時代
 ケ. 安土桃山時代 コ. 江戸時代 サ. 明治時代 シ. 大正時代
 ス. 昭和前期（第二次世界大戦敗戦まで） セ. 昭和後期（第二次世界大戦敗戦後）

問2 ①の『()』には舎人親王らが編さんした日本の歴史書が入ります。それは何ですか。『()』にあてはまる歴史書を答えなさい。

問3 ②の下線部の例として、ルソーの『社会契約論』を翻訳し、自由民権運動を支えた人物は誰ですか。氏名を書きなさい。

問4 ③の時代の農業・農村の説明として明らかな誤りがある文はどれですか。次の中から1つ選び、記号で答えなさい。

- ア. この時代には、竜骨車のようなすぐれた灌漑設備もつくられるようになった。
 イ. この時代には千石どおし、唐箕などの新たな農具が用いられるようになった。
 ウ. この時代の農村では寄合を開き、おきてを決めたり、入会地や灌漑用水の利用を決めたりしていた。
 エ. この時代には宇治の茶、紀伊のみかん、三河の木綿など各地の特産物が生まれた。

問5 ④の下線部について、公事方御定書の制定などが行われた改革を何といいますか。改革名を答えなさい。

問6 ⑤の()は第二次世界大戦の時に、激烈な戦場となった場所で、ライシャワーの提言のあと、佐藤栄作首相のときに日本に返還された場所です。その場所とはどこですか。県名を答えなさい。

問7 ⑤の下線部「日本人は特別な存在」であることを強調する教育が行われた時期があります。以下はその当時の小学校地理の教科書です。なぜ政府は「日本人は特別な存在である」と教育しようとするのですか。この文を読み、発行された時期、内容をふまえて説明しなさい。

「どう見ても、日本列島は平凡な形ではありません。アジア大陸の前面に立って、太平洋に向かって雄々しく進む姿が想像されるとともに、また、太平洋に対して大陸を守る役目をしているようにも考えられます。」(1943年『初等科地理(上)』)

2

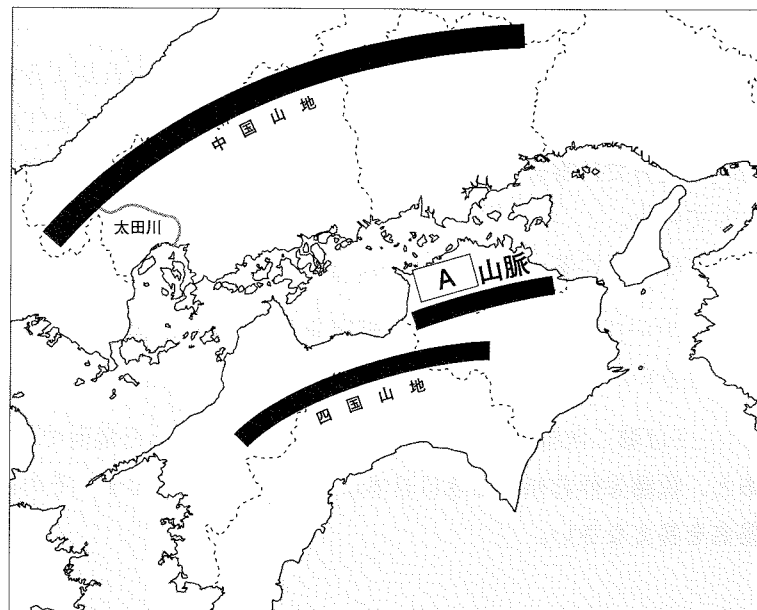
以下の文章を読み、問いに答えなさい。

食文化は、地理条件と無関係ではあり得ない。地域の食文化は、その土地の地形や気候の影響を強く受ける。①瀬戸内海沿岸部の地域の名産品をいくつか挙げながら考えてみよう。

例えば、香川県の名物、うどんである。②香川県の気候は、稲作には不向きである。しかし、この気候はうどんの原料となる小麦の生産には適している。しかも香川県北部に広がる③地形も小麦生産には向いている。だからこそ、香川県ではうどん作りが盛んになったのだ。さらに、瀬戸内海の遠浅の地形を利用した塩田で生産した塩を使って調理することで、うどんの独特のコシを生むことができた。

こうした食文化と地理条件の相互関係性は、もちろん香川県以外の地域でも確かめることができる。例えば、広島県ではカキの養殖が盛んである。④広島県では約7割を占める林野面積と広島湾の地理的条件を活かし、植物プランクトンを主要なエサとするカキ養殖を行っており、地理条件が食文化に影響を与えている典型的な事例を見ることができる。

【地図】



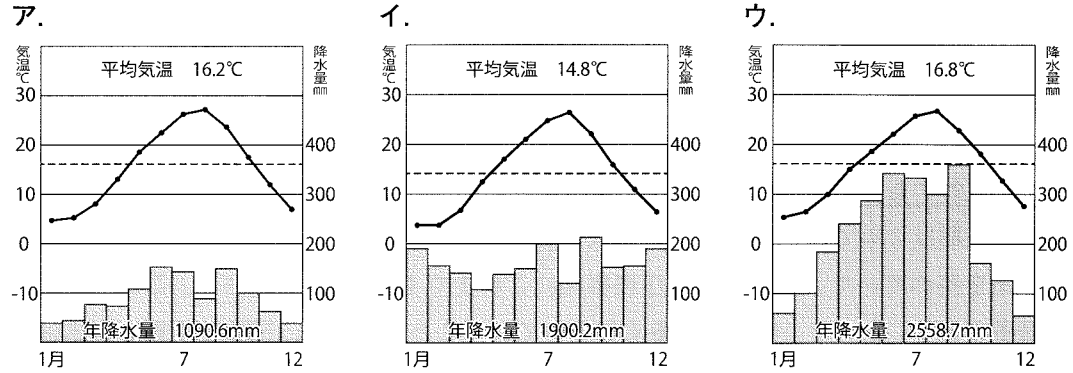
問1 下線部①について、地域と名産品の組み合わせとして正しいものはどれですか。次の中から1つ選び、記号で答えなさい。

- ア. 愛媛県・りんご イ. 岡山県・ぶどう
ウ. 広島県・なす エ. 山口県・さとうきび

問2 下線部②について、以下の問いに答えなさい。

(1) 香川県の気候に大きな影響を与えている、地図中の山脈 **A** の名称は何ですか。答えなさい。

(2) 以下の雨温図は、それぞれ香川県高松市・高知県高知市・鳥取県鳥取市のものです。高松市の雨温図はどれですか。次の中から1つ選び、記号で答えなさい。

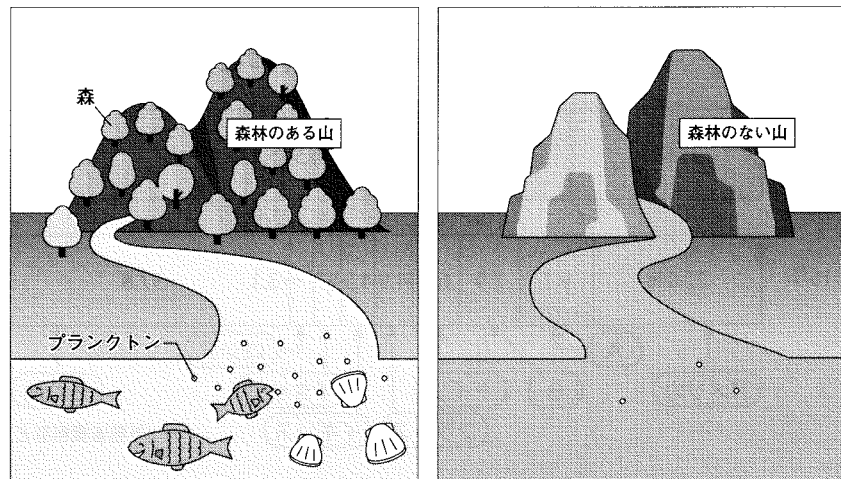


問3 下線部③について、河川が山地から平野や盆地に移る所などに見られる、土砂などが山側を頂点として堆積した地形の名前を何と言いますか。答えなさい。

問4 下線部④について、なぜ広島県ではカキの養殖が盛んなのですか。

以下の【図】を参考にしながら、その地理的な条件に注目して理由を説明しなさい。

【図】



3

以下の文章を読み、問いに答えなさい。

国際平和と安全を維持し、様々な面で国際協力を促進することを目的に国際連合は設立された。1945年の設立当時の原加盟国は51か国だったが、加盟国が増え、2017年現在、193か国が加盟する国際機関となっている。

国連のなかで、全加盟国が集まって討議し、加盟国に勧告する権限をもつ機関は(あ)である。(あ)では議決の際、全加盟国に等しく1票ずつの投票権が与えられる。一般事項は出席し投票した国の過半数の賛成で議決され、新加盟国の承認など重要事項は出席し投票した国の3分の2以上の賛成で議決される。

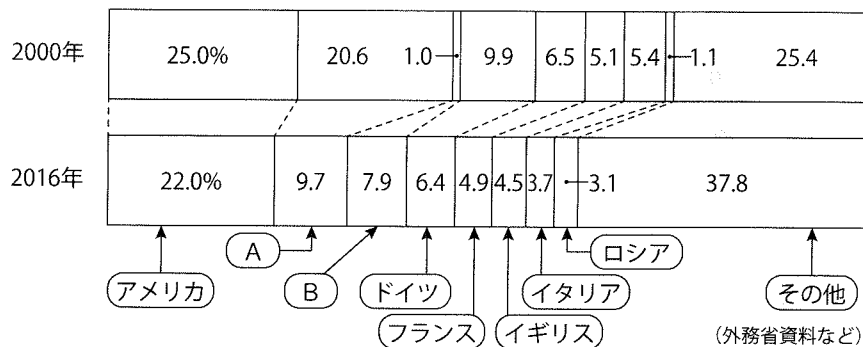
また、国際平和と安全の維持について主要な責任を持ち、常任理事国5か国と非常任理事国10か国のあわせて15か国で構成される機関が(い)である。(い)の決定には拘束力があり、加盟国は決定を受け入れなければならない。(い)において、重要事項の決定はすべての常任理事国をふくむ9か国以上の賛成が必要で、①常任理事国が1か国でも反対すると決議は成立しない。常任理事国とともに(い)を構成する非常任理事国の任期は2年で、(あ)によって選出される。2016年から2年間、日本は非常任理事国を務めていた。日本は非常任理事国にこれまで11回選ばれており、これは加盟国中最多である。また、②分担金も多く負担していることなどから、国連の活動を日本は支えてきているといえよう。

問1 文中の(あ)・(い)にあてはまる言葉は何ですか。それぞれ答えなさい。

問2 下線部①について、このように常任理事国に認められている強い権限を何といいますか。答えなさい。

問3 下線部②について、次のグラフを見て以下の問いに答えなさい。

国連分担金（通常予算） 分担率の変化



(1) 国連予算は加盟国がその能力に応じて負担しています。分担率は各国の経済規模に応じて算出され、3年に1度見直されます。グラフのA・Bにあてはまる国の組み合わせとして、次の中から正しいものを1つ選び、記号で答えなさい。

- ア. A: 日本 B: ブラジル
イ. A: 中国 B: 日本
ウ. A: 中国 B: ブラジル
エ. A: 日本 B: 中国

(2) 分担率が最も大きいアメリカは分担金の支払いをためらう傾向にあります。なぜアメリカは分担金の支払いを先延ばしにしているのですか。文中の(あ)での議決方法と、国連の加盟国数の変化をふまえてその理由を説明しなさい。

4

以下の言葉の中で、ある見方でみると一つだけ性格が異なるものがあります。それはどれですか。記号で答えなさい。また、それ以外の言葉に共通する性格は何ですか。説明しなさい。

例題 [ア. 縄文 イ. 江戸 ウ. 鎌倉 エ. 横浜]

ア 他はすべて都市の名前

- 問1 ア. 東京都 イ. 長野県 ウ. 沖縄県 エ. 北海道
問2 ア. 伊藤博文 イ. 山県有朋 ウ. 犬養毅 エ. 原敬

5

以下の問いに答えなさい。

問1 2017年6月、改正組織犯罪処罰法が参議院の本会議で賛成多数で可決され、成立しました。この法律では、実行行為がなくても、ある特定の犯罪(277の犯罪)を行おうと具体的・現実的に合意に至った段階で犯罪となることが決まりました。この犯罪を何と言いますか。答えなさい。

問2 2017年5月、韓国の新しい大統領に就任した人物とは誰ですか。答えなさい。

6

以下の会話を読んで、問いに答えなさい。なお文中の森村くんの会話を「森」、お父さんの会話を「父」と表記します。

森 「中立である」ってどういうことだろう？

父 急にどうしたんだい？

森 中立であることってというのは、「中間に立つ」ことなのかな。

父 それはどうかなあ。中立って、そんな簡単なことじゃないよ。たとえば、中立と言いつつも、どちらかに偏^{かたよ}っていることもあるから、注意が必要だよ。

森 え、そんなことがあるの？

父 例えば昨年8月、^①アメリカのバージニア州にあるシャーロットビルという町で、「白人は優れているんだ」「アメリカは白人だけのものだ」という主張^{かか}を掲げ、時には暴力を用いて人種差別を行う白人至上主義者たちの大規模な集会が行われたんだ。この人たちは、トランプ大統領の支持者でもあるんだ。その大規模な集会の場に、「^②人種差別はよくない！」と差別反対を訴え、この集会に抗議する人々も集まった。そして、この二つの集団は衝突^{しょうとつ}し小競り合いになり、もみ合いになった。その中で、白人至上主義者の男性が運転する車により、差別反対の立場で抗議にきていた女性がはねられて死亡し、また他にも多数の負傷者を出してしまった。この事件を覚えているかい？

森 覚えているよ。この時、トランプ大統領は最初、「『様々な側』からもたらされる憎^{そう}悪^お、偏見^{へんけん}、暴力に、可能なかぎり最も強い言葉による抗議を表明する」という発言をした。つまり、「白人至上主義者たちにも、差別反対の立場で抗議していた人々にも、双方に落ち度があった」という趣旨^{しゆし}の発言をしたんだよね。まさにこれは、対立の「中間に立つ」という意味での中立だよ。

父 一見すると、白人至上主義者たち、差別反対の立場で抗議していた人々、双方が衝突したのだから、「どっちもどっち」というトランプ大統領の最初のこの発言は中立的に思えるかもしれない。でも本当にこの「中立」でいいのだろうか？

森 え？ どういうこと？

父 アメリカ大統領はすべてのアメリカ国民の代表だよ。トランプ大統領は、白人も黒人もふくめた、すべてのアメリカ国民を代表する立場としてふさわしい発言を求められるんだ。でも、この事件でトランプ大統領が最初にした発言の中で、トランプ大統領は「白人が他の人々より優れている」という主張をする人種差別的な白人至上主義者たちをはっきりと名指しして批判しなかったんだよ。^③つまり、何がそもそもの問題だったのかを明確に指摘^{てき}しなかったんだ。

森 その最初の対応が多くの非難を生んだらしいけど、その何が問題なの？

父 「どっちもどっち」と言って「何がそもそもの問題だったか」を話題にしなかったことが、人種差別的な白人至上主義者たちに有利に作用してしまったんだ。

森 え！ なんで？

父 人種差別的な白人至上主義者たちは、大統領が自分たちを明確に否定しなかったの、むしろ大統領が自分たちの主張を認めてくれたように感じたんだよ。

森 そうか。そもそも非難される主張をしているにも関わらず、その主張については否定されず、その一方で被害者側も悪かったんだ、と言ってくれた方が、自分たちの主張は認められたような気がするもんね。

父 そうなんだ。④ ことで、一方の主張だけを補強するという結果になることもあるんだ。⑤ 実際、差別的な主張を明確に否定するべきだったという批判が大統領に殺到したんだよ。

森 そうか。このときの大統領の「どっちもどっち」という趣旨の発言は、差別的な主張を否定しなかったのがよくなかったんだね。

父 そう。「中立」を装って、実は、どちらか一方を利するようなこともあるから、気を付けなければいけないね。

問1 下線部①について、右の表は世界の国の面積を広い順に並べたものです。AからCには、アメリカ、ロシア、インドのいずれかが入ります。アメリカを示しているのはどれですか。1つ選び、記号で答えなさい。

| | |
|----|---------|
| 1 | A |
| 2 | カナダ |
| 3 | B |
| 4 | 中華人民共和国 |
| 5 | ブラジル |
| 6 | オーストラリア |
| 7 | C |
| 8 | アルゼンチン |
| 9 | カザフスタン |
| 10 | アルジェリア |

問2 下線部②について、第2次世界大戦期に日本が同盟を結んでいた国の1つに、人種差別政策によりユダヤ人などを大量虐殺した国があります。その国はどこですか。答えなさい。

問3 下線部③について、トランプ大統領が「はっきりと名指しして批判しなかった」のは、自身の政権が不安定になることを恐れたことが大きな理由だと思われま。なぜ批判することで政権が不安定になるのですか。本文から説明しなさい。

問4 文中の④ に当てはまる言葉はどれですか。1つ選び、記号で答えなさい。
ア. 両者の衝突と暴力行為についても、両者の主張の内容についても問題にしなかった
イ. 両者の衝突と暴力行為について問題にし、両者の主張の内容についても批判した
ウ. 両者の主張の内容については批判したが、両者の衝突と暴力行為については問題にしなかった
エ. 両者の衝突と暴力行為については批判したが、両者の主張の内容については問題にしなかった

問5 下線部⑤について、以下の問いに答えなさい。

(1) このような批判が殺到したとはいえ、特定の主張を国家が制限することには慎重になるべきだとする意見もあります。特定の主張を国家が制限し始めることの問題点を答えなさい。

(2) なぜ「差別的な主張を明確に否定するべきだった」のでしょうか。そこには、人類が長い歴史の中で作り上げてきた、どこの国でも大切にすべき共通の理念があります。その理念は、アメリカの憲法にはもちろん、日本国憲法など様々な国の憲法にも反映されています。差別的な主張を否定する理念は日本国憲法にはどのようにあらわれていますか。説明しなさい。